

Družba 5. razred

SLOVENSKE POKRAJINE

PREVERIM SVOJE ZNANJE

Slovenijo na podlagi naravnih in družbenih značilnosti delimo na **pet velikih pokrajin**.



Te pokrajine so...



S KATERO
POKRAJINO
BOŠ ZAČEL
PREVERJATI
ZNANJE ?



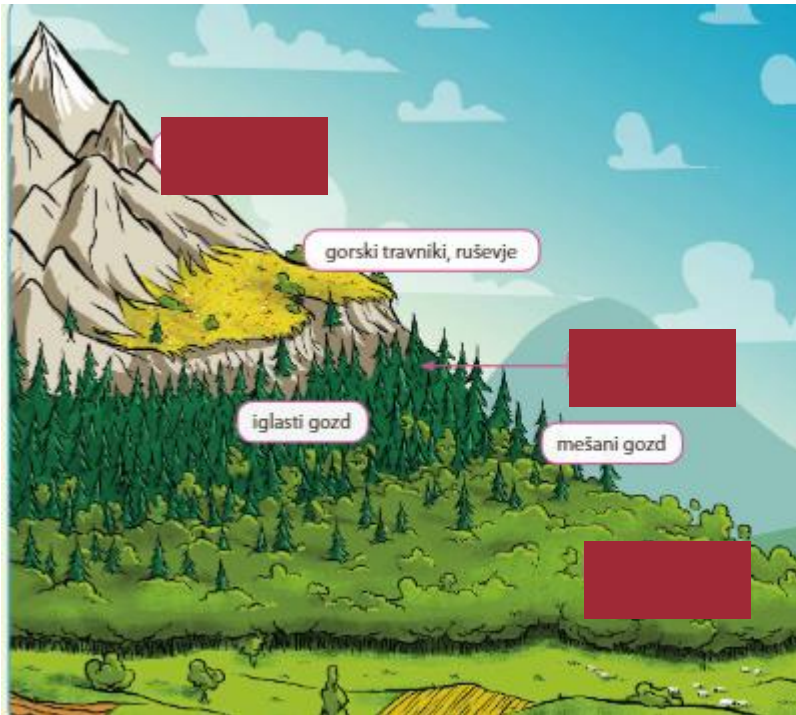
Pri tej nalogi uporabi zemljevid.

- A. Poišči najvišje vrhove Julijskih Alp, Karavank in Kamniško-Savinjskih Alp.
B. Zapiši njihova imena in nadmorsko višino v preglednico.

	NAJVIŠJI VRH	NADMORSKA VIŠINA
Julijske Alpe		
Karavanke		
Kamniško-Savinjske Alpe		



Na sliki imaš rastlinske



Kaj je gozdna meja?

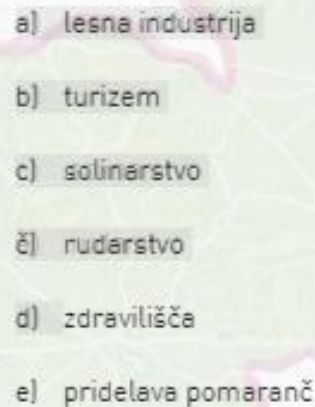
- Mejo, do katere raste gozd, imenujemo gozdna meja.

Ali veš na katere reliefne oblike delimo Predalpske pokrajine?

Predalpske pokrajine razdelimo na:

- predalpska hribovja
- predalpske doline in kotline

S katerimi dejavnostmi se ukvarjajo v predalpskih pokrajinah?

- 
- a) lesna industrija
 - b) turizem
 - c) solinarstvo
 - č) rudarstvo
 - d) zdravilišča
 - e) pridelava pomaranč

A in Č



Predalpske pokrajine
ležijo pred Alpami – od
tod tudi njihovo ime.



Vsako jutro v jamo gre,
črn povrne se iz nje,
ker globoko pod zemljo
črno koplje nam zlato.

A.N.



- Pomagaj Nejcju rešiti uganko. V pomoč naj ti bo tudi njegov simbol.
- Ali poznaš kakšen rudnik v Sloveniji? Pokaži ga na zemljevidu.
- V kateri naravni enoti Slovenije je največ rudnikov/premogovnikov?

Na zemljevidu poišči gričevja in reke Obpanonske pokrajine.

4. Gričevja obpanonskih pokrajin so poznana po raznih dejavnostih.

A. S katero dejavnostjo se ukvarjajo na gričevjih?

vinogradništvom



Odgovori na vprašanji.

B. Po kateri dejavnosti so še poznane obpanonske pokrajine?

Zdravilišča-
zaradi mineralne
in termalne vode




Kje ležijo Obpanonske pokrajine?

Kje v Sloveniji so Obpanonske pokrajine?

Obpanonske pokrajine ležijo na vzhodu Slovenije, na zahodnem obrobju Panonske nižine.

KATERA je najbolj značilna žival Obpanonskih pokrajin?



Na kateri reki je bilo pomembno **splavarstvo**?

Na reki Dravi je bilo pomembno **splavarstvo**.

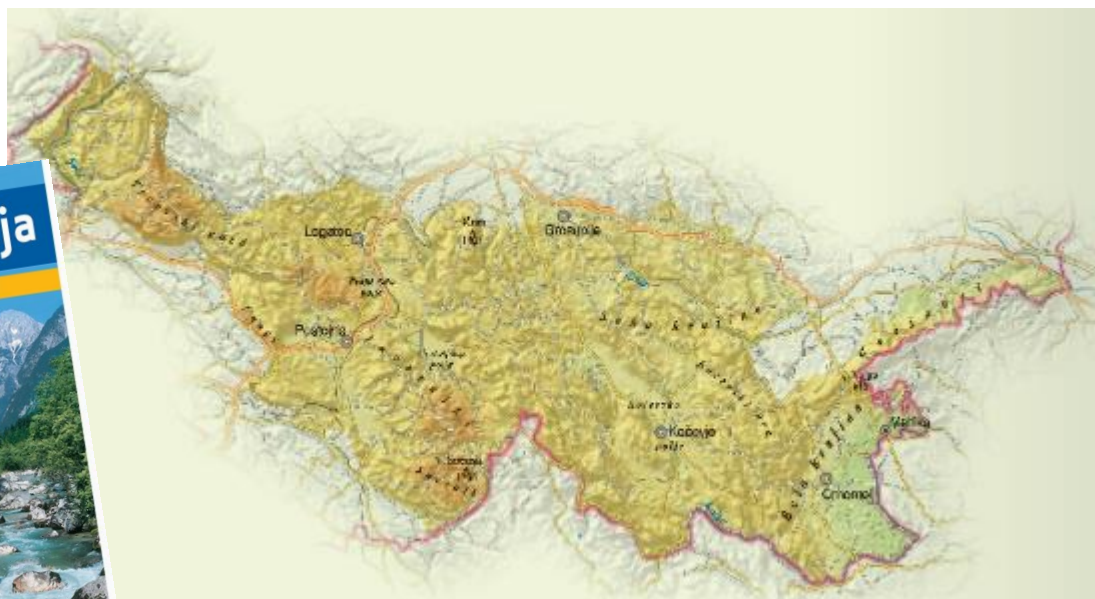



Na zemljevidu Slovenije poišči
Dinarskokraške pokrajine.



Na katere planote in hribovja in
podolja s kraškimi polji jo
delimo?

Pokaži jih na zemljevidu.





Na zemljevidu poišči Postojnsko jamo in ugotovi, katera reka teče skozi jo.

PIVKA

Na zemljevidu poišči reki Krka in Kolpa.
Po čem se razlikujeta od drugih rek v tej pokrajini?

Površinskih voda, razen Krke in Kolpe, skoraj ni.

Za kras so značilne ponikalnice.
Kaj to pomeni? Razloži.

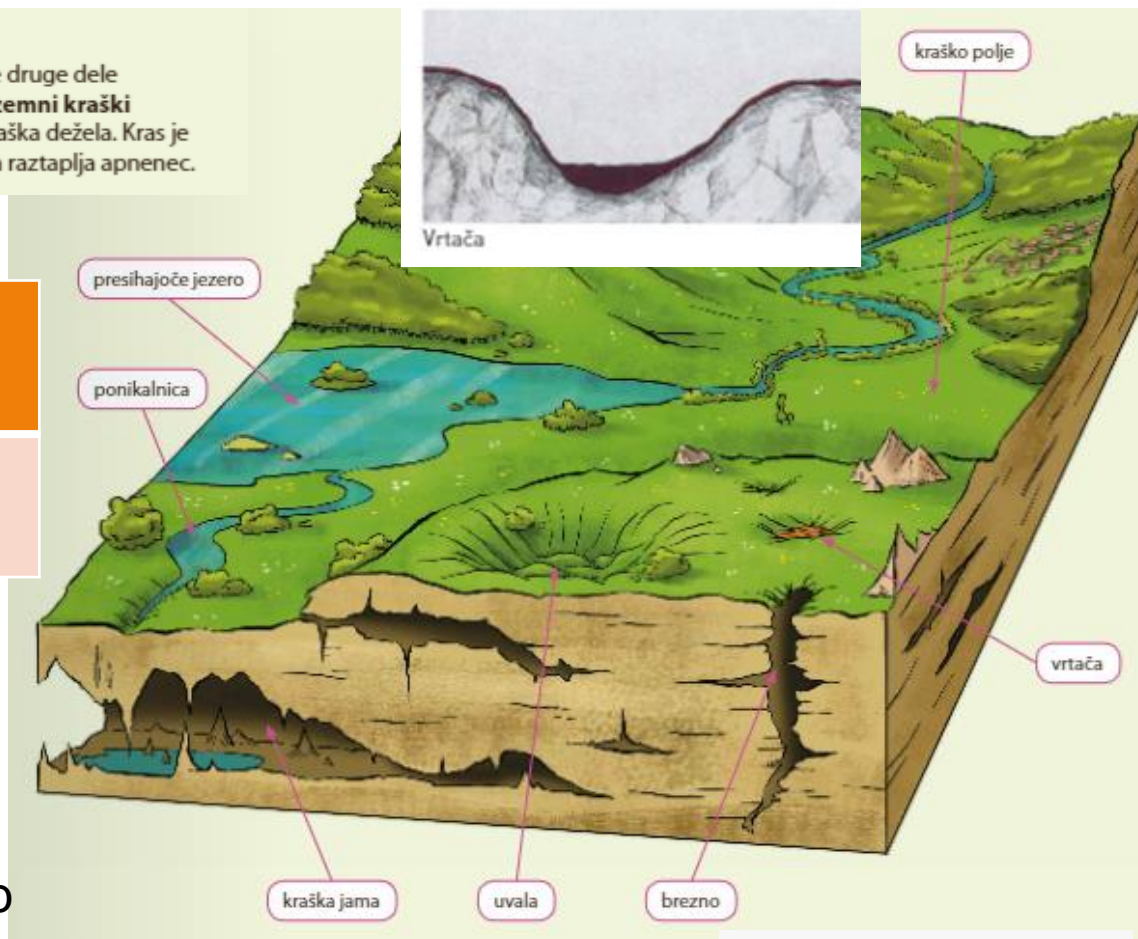
Ponikalnice-vode, ki nekaj časa tečejo po površini, nato pa izginejo v kraško podzemlje.

Slovenija je kraška dežela


Za Dinarskokraške pokrajine in nekatere druge dele Slovenije so značilni **površinski** in **podzemni kraški pojavi**, zato bi jo lahko imenovali kar kraška dežela. Kras je poseben tip površja, ki nastane, ko voda raztaplja apnenec.

**POVRŠINSKI
KRAŠKI
POJAVI**


**PODZEMNI
KRAŠKI
POJAVI**



1. Kraške pojavi pravilno razvrsti v preglednico.
2. Na kratko vsakega opiši.



B. Najbolj znana reka ponikalnica je _____, ki ima
kar _____ imen.



Ljubljanico imenujemo tudi reka s sedmimi imeni.

CERKNIŠKO JEZERO



Zakaj rečemo, da je Cerknjansko jezero presihajoče jezero?

Kje ležijo Obsredozemske pokrajine?

- a) Na severovzhodu Slovenije.
- b) Na jugozahodu Slovenije.
- c) Na jugovzhodu Slovenije.

Na jugozahodu Slovenije.

Ali živijo na obali tudi narodne manjšine?

- a) Ja, avstrijska narodna manjšina.
- b) Ne.
- c) Ja, italijanska narodna manjšina.

Ja, italijanska narodna manjšina.

Kako delimo Obsredozemsko pokrajino?

Obsredozemske pokrajine razdelimo na **flišne** in **kraške pokrajine**.

Razdelimo jih lahko tudi na pokrajine ob morju in na pokrajine v notranjosti.

Na zemljevidu pokaži in poimenuj posamezne dele Obsredozemskih pokrajin.



Naštej še nekaj rastlin, ki rastejo v Obsredozemskih pokrajinah in jih v notranjosti Slovenije ni.




Katero dejavnost prikazuje fotografija in kje še opravljajo do dejavnost?

Solinarstvo.
Sečoveljske in
Strunjanske
soline.



Na zemljevidu Slovenije poišči in poimenuj večja mesta Obsredozemskih pokrajin.

Čestitam!



Uspešno si odgovoril na vsa vprašanja.

