

ŠTIRIKOTNIKI

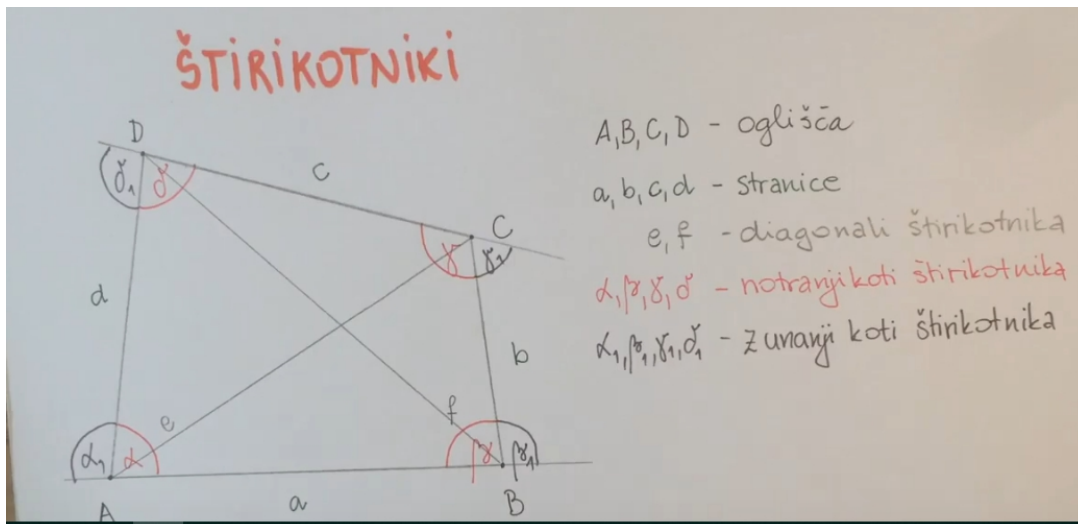
1. Najprej si oglej razlago.

<https://www.youtube.com/watch?v=bcRi1Zqmf7U>




2. V zvezek oblikuj zapiske. Lahko si pomagaš z učbenikom na strani 137.

3. Odgovori še na vprašanje: Kaj je štirikotnik?

Pomoč za zapiske v zvezek dobiš tudi na spodnjih slikah iz razlage.



DELITEV ŠTIRIKOTNIKOU GLEDE NA MEDSEBOJNO LEŽO STRANIC

TRAPEZOID (splošni □)	TRAPEZ	PARALELOGRAM
		
nimajo vzporednih stranic	1 par vzporednih stranic	2 para vzporednih stranic