

Dragi učenci,

Z upanjem, da bo ta »korona« kriza čimprej mimo, bomo v naslednjih tednih po Starem svetu potovali preko spleta. Ker se v živo ne bomo videli, boste sami morali biti toliko odgovorni, da sledite navodilom in obdelate poslano snov.

Upam, da ste doma in zdravi, tako se obdržite še naprej!

Glede naših PPT predstavitev držav bomo še videli, kako bomo nadaljevali. Se pa zna zgoditi, da jih bo potrebno oceniti brez opravljene predstavitve. O tem vas bom še posebej obvestila.

Sledijo navodila za **PRVO SPLETNO URO GEOGRAFIJE**:

Države in glavna mesta Južne Evrope ste si v delovni list že vrisali (upam, da pravilno), sledi določitev naravnogeografskih značilnosti tega dela Evrope. V priponki vam pošiljam primer **miselnega vzorca, ki si ga morate izdelati v zvezkih**. S pomočjo učbenika na straneh 40 in 41 ga dopolnite z informacijami o **legi, površju, podnebjju, rastlinstvu in državah**.

V priponki nato pošiljam še **vaje**, ki jih opravite, ko bo miselni vzorec v zvezkih dokončan. Tudi vaje si prepíšite v zvezke. Seveda si vaje lahko tudi natisnete in prilepate. Pri 1. vaji si lahko zemljevid Južne Evrope prerišete in vnesete zahtevane enote. Lahko pa jih seveda vnesete v zemljevide, ki sem vam jih dala pri zadnji uri in kjer ste vpisovali države in glavna mesta.

Ostale vaje si prepíšite v zvezek.

Ob vrnitvi v šolo bom naloge pregledala in na koncu ocenila, zato se potrudite. Če potrebujete kakršno koli pomoč, sem vam na voljo preko elektronske pošte.

Bodite predvsem zdravi.

Prisrčen pozdrav,

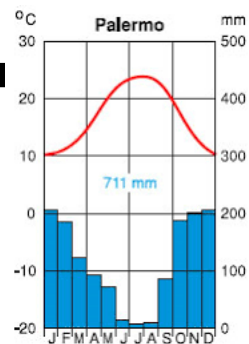
Eva Pellegrini Mitič



Podnebja:

PONOVI ZNAČILNOSTI  
POSAMEZNEGA PODNEBJA!

Lega:



Rastlinstvo:

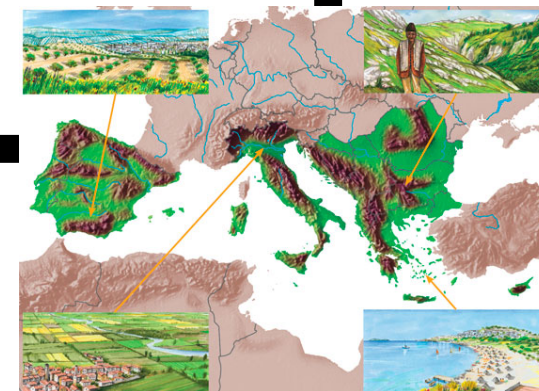


# JUŽNA EVROPA

NARAVNOGEOGRAFSKE ZNAČILNOSTI

Države:

Površje:



**ODGOVORI!**

KAJ SE JE ZGODILO S **CIPROM** PO OSAMOSVOJITVI  
IZPOD OBLASTI BRITANSKEGA IMPERIJA?

# I JUŽNA EVROPA

Države Južne Evrope sestavljajo številni otoki in polotoki. Skupna jim je zgodovina, saj so to območja, ki so jih stoletja obvladovali stari Grki in Rimljani. Sredozemsko morje, ob katerem so države Južne Evrope, ima velik vpliv na druge naravne in družbene značilnosti Južne Evrope.



Atene, Grčija



1

- A) Vpiši imena velikih naravnih enot (Pireneji, Meseta, Alpe, Apenini, Šarsko-pindsko gorstvo, Rodopi, Padska nižina), otokov (Baleari, Korzika, Sardinija, Sicilija, Kreta) in Gibraltarski preliv.
- B) Vpiši imena rek (Tajo, Ebro, Pad) in morij, ki oblivajo Južno Evropo.
- C) Vpiši imena držav in glavnih mest.

## NARAVNE ZNAČILNOSTI

Južna Evropa je najbolj razčlenjen del Evrope. V površju prevladujejo mlada gorovja, reke pa imajo hudourniški značaj.

1

Preberi zgornjo trditve in pojasni z rumeno podčrtane besedne zveze.

---

---

---

2

Oglej si klimogram in reši nalogo.

A) Poimenuj podnebje, ki je značilno za Južno Evropo.

---

B) Podčrtaj pravilne in popravi nepravilne trditve. Trditve se nanašajo na značilnosti podnebja v Atenah.

Najmanjša povprečna količina padavin je jeseni.

Temperature tudi pozimi ne padejo pod 0 °C.

Poletja so sušna.

Najvišja povprečna temperatura je junija.

C) Rastlinstvo je prilagojeno podnebnju. Na kateri dejavnik morajo biti prilagojene rastline in kako so se prilagodile?

---

---

---

Č) Rastline ob Sredozemskem morju so zimzelene. Pojasni, kaj pomeni, da so rastline zimzelene in zakaj lahko trdimo, da je tudi to, da so zimzelene, prilagoditev na podnebje.

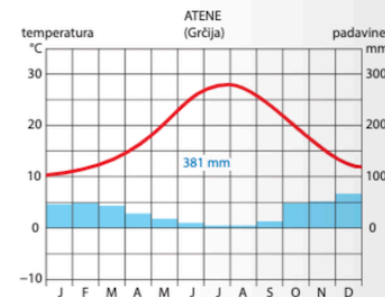
---

---

---

---

D) Pod fotografijo napiši imena rastlinstva.



Vir: Verdev, H., Ilc Klun, M. (2019). *Raziskujem Stari svet 7, novo potovanje, delovni zvezek za geografijo v 7. razredu*. Ljubljana: Založba Rokus Klett.