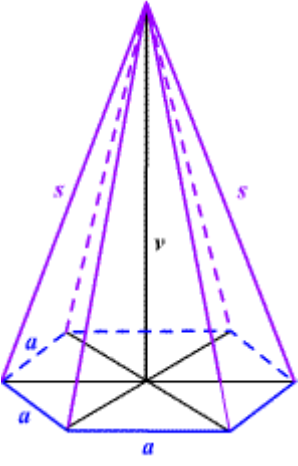
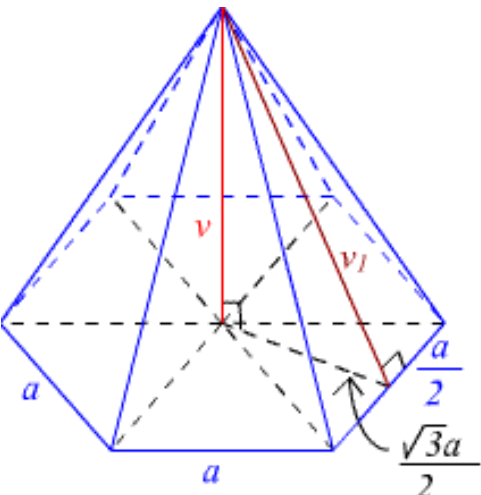
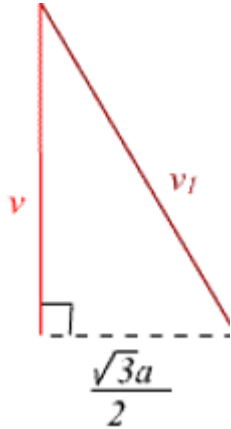


Pravilna 6-strana piramida

1. naloga

Preriši v zvezek in dopolni v desnem stolpcu.

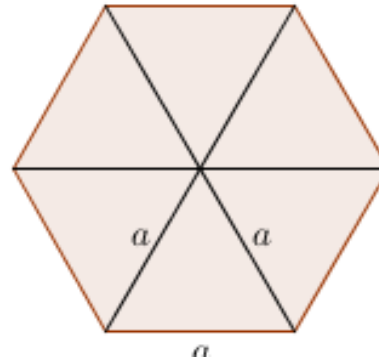
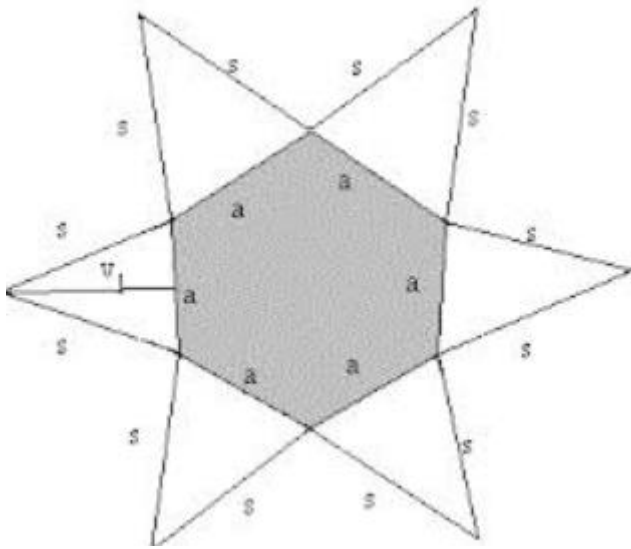
	<p>s...</p> <p>v</p> <p>a</p>
	<p>Pitagorov izrek : ...</p> 

2. naloga

Iz učbenika prepiši obrazec za površino pravilne 6-strane piramide (stran 158)

Lahko pa obrazec izpelješ tudi sam.

V pomoč sta ti mreža te piramide in njena osnovna ploskev na spodnji skici.



3. naloga

Pravilna šeststrana piramida. $a = 6$ cm, $v = 15$ cm. Izračunajte površino piramide.

Lahko uporabljáš kalkulator.

Postopek reševanje je na spodnjem naslovu.

<https://www.youtube.com/watch?v=qvYp5BF4vHE> postopek reševanja 3. naloge

Rešitev

$$P = 379,2 \text{ cm}^2$$